

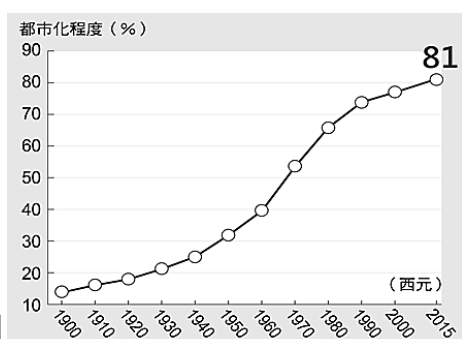
臺北市立建成國民中學一百一十學年度第二學期第三次段考七年級社會科試題卷

(科目代號：30)

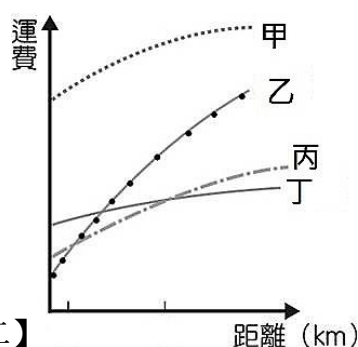
七年__班 座號：__ 姓名：__

◎選擇題：(共50題，每題2分，共100分)

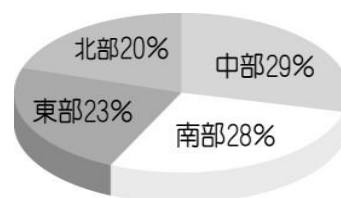
1. (D) 隨著宅經濟發燒，台灣路上處處可見外送員騎著機車穿梭在大街小巷、或大小貨車在城市與鄉村間進行貨品配送，若以『交通工具的特性』判斷，宅經濟發燒最需要考量交通運輸的何種特性？(A) 運量龐大 (B) 運費低廉 (C) 速度最快 (D) 機動性高。
2. (B) 【圖一】是《臺灣都市化程度變化圖》，圖中的曲線變化和下列哪一項敘述的關係最為密切？
(A) 台灣鄉村人口的社會增加率有所上升 (B) 台灣人口的聚集程度明顯提高 (C) 台灣都會區多分布在西半部 (D) 台灣人口總數逐年增加。



【圖一】



【圖二】



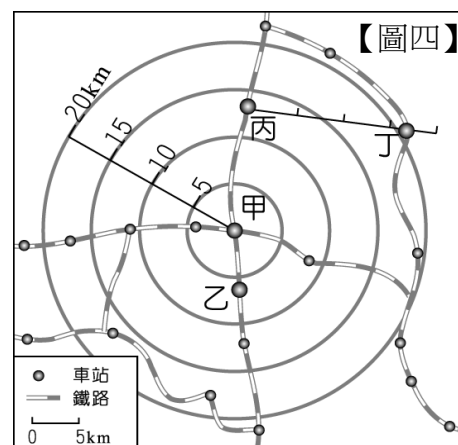
【圖三】

3. (D) 【圖二】中所呈現的四種交通工具中，哪兩種運輸方式即使距離增加，但運費卻沒有明顯提升、且相對低廉，「最能節省運費」？(A) 甲&乙 (B) 乙&丙 (C) 甲&丁 (D) 丙&丁。
4. (A) 臺灣各區域特色均不相同，根據【圖三】圓餅圖的數據比例判斷，此圖的圖名應為下列何者？(A) 臺灣各區域面積比例圖 (B) 臺灣各區域人口數比例圖 (C) 臺灣各區域重工業產值比例圖 (D) 臺灣各區域生育率比例圖
5. (C) 腹地的定義為：貨物分散和集中所能到達的範圍。根據定義，有關『基隆港』與『高雄港』的腹地面積及腹地條件之比較，何者正確？(A) 基隆港為一天然港灣，腹地廣大 (B) 基隆港腹地較大，背倚山地丘陵 (C) 高雄港交通網絡密集，腹地較大 (D) 高雄港腹地較大，地處背山臨海。
6. (A) 蔣渭水高速公路的通車，使得宜蘭與臺北的聯繫更加便利，然而其工程卻因需貫穿地質堅硬的山脈而困難重重。根據上文，蔣渭水高速公路貫穿的山脈是何座山脈？(A) 雪山山脈 (B) 中央山脈 (C) 海岸山脈 (D) 玉山山脈
7. (A) 【圖四】為建成鐵路公司的票價計費方式圖搭配下文資料。若以相同的計費方式，維倫打算從乙站到丙站，應該需要負擔多少費用？(A) 250 元 (B) 200 元 (C) 150 元 (D) 100 元。

不管您的搭乘路徑為何，本公司只以您起點與訖點間的直線距離收費。其優惠方式如下：

(1) 在 5 公里內僅收費 50 元，超過 5 公里未達 10 公里收費為 100 元，超過 10 公里未達 15 公里收費為 150 元，超過 15 公里未達 20 公里收費為 200 元，超過 20 公里以上，統一優惠收費 250 元。

(2) 例如從甲站出發，不管您搭乘哪一路線，到乙站只要 100 元，到丙站只要 150 元，到丁站只要 200 元！



【圖四】

8. (C) 中國自 2018 年至今陷於非洲豬瘟的疫情，我國離島區域因地理位置，再加上小三通開放，陸續發現 19 起海漂豬隻殘體，其中有五例確檢為感染非洲豬瘟，因此更須防範疫情的擴散。下列何者並非位於上述所說的離島區域？(A) 大膽島 (B) 南竿島 (C) 綠島 (D) 烈嶼
9. (D) 大芝打算坐火車環島，如果從高雄逆時針出發，請問其所搭乘的列車經過下列的鐵路路段依序為何？(甲) 臺東線 (乙) 縱貫線 (丙) 北迴線 (丁) 南迴線 (A) 甲丙丁乙 (B) 乙丙甲丁 (C) 丙丁甲乙 (D) 丁甲丙乙
10. (B) 2009 年政府決定重劃行政區域，形成「新五都」；民國 2014 年底，桃園縣升格為桃園市，成為「第六都」。請問：政府決定重劃行政區域，讓區域之間資源能互補發展，以及提升國際競爭力。請問：政府主導行政區合併的主要原因為何？(A) 增加城鄉貧富差距 (B) 平衡臺灣區域落差 (C) 提升效能與科技發展 (D) 兼顧環保與永續發展。

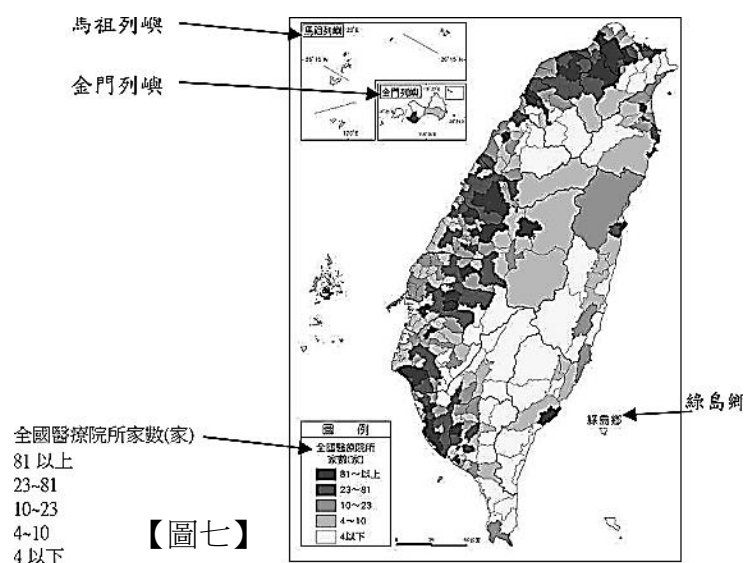
11. (C) 民國 99 年行政院公布「國土空間發展策略計畫」，將臺灣以地方階層分為七大生活圈如【圖五】，其中宜蘭被畫入與北北基共同一個生活圈，請問最可能與哪一條交通路線的興建有關？(A)國道 1 號 (B)國道 3 號 (C)國道 5 號 (D)高速鐵路。



【圖五】

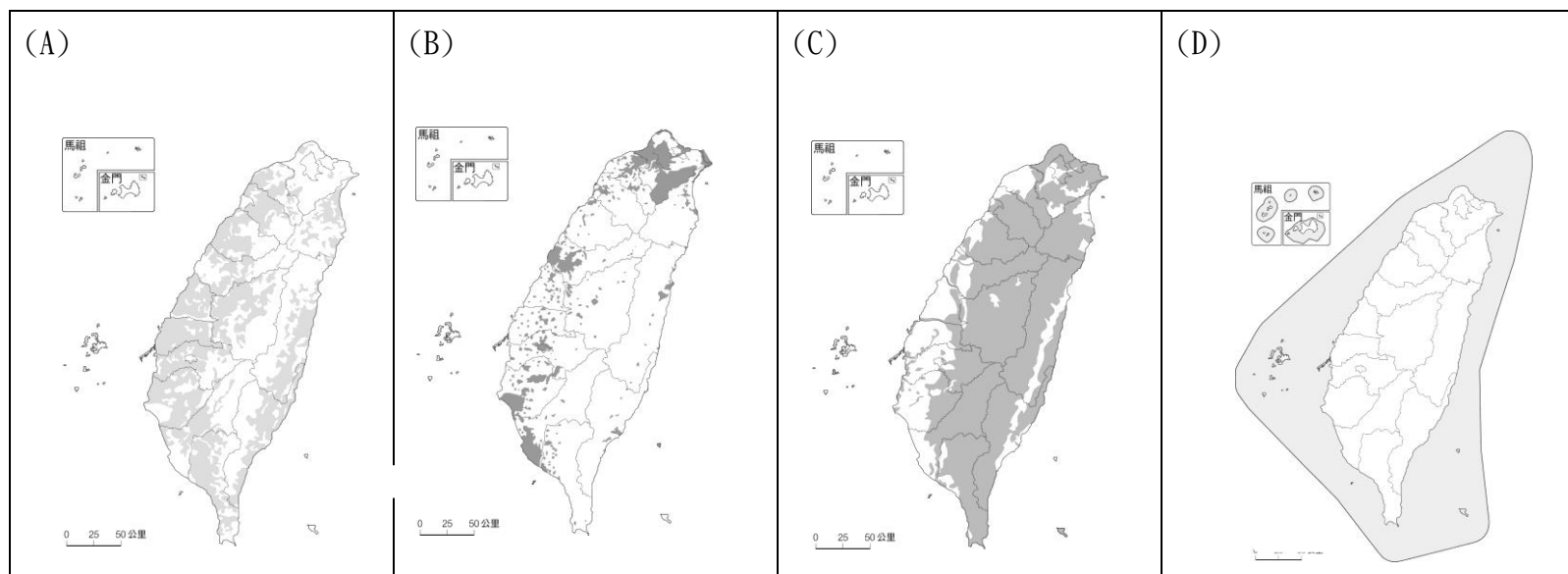


【圖六】



【圖七】

12. (D) 民國 103 年內政部正式成立「南方四島國家公園」，位置如【圖六】所示，為臺灣第九座國家公園，希望能發展當地的環境保育與觀光遊憩。請問：南方四島國家公園位於哪一區域？(A)離島區域 (B)北部區域 (C)中部區域 (D)南部區域。
13. (B) 【圖七】為民國 102 年全國各鄉鎮市區醫療院所家數圖。請問：由圖中可以看出哪些區域間的差異？(甲)山地醫療院所數量多於平地 (乙)本島醫療院所數量多於離島 (丙)都市醫療院所數量多於鄉村 (丁)東部醫療院所數量多於西部 (A)甲乙 (B)乙丙 (C)乙丁 (D)丙丁。
14. (A) 有專用的行車軌道，提供都會地區內密集、大量的運輸服務，載客量大，可以有效的紓解都市龐大的通勤人口。請問這是指哪一種交通工具？(A)捷運 (B)鐵路 (C)飛機 (D)公路。
15. (C) 民國 96 年高鐵通車是為國內交通運輸的一大突破，開啟了臺灣交通及經濟發展史上的新里程，請問有關高鐵所帶來的影響，下列敘述何者正確？(A)促使東部區域地方生活機能更趨完整 (B)造成國道 1、3 號車流大幅增加 (C)加速西部走廊都市與都市間的交流 (D)造成臺鐵業者乘客數量大減。
16. (A) 小君要做學校地理報告，主題是有關於農地農用，下列哪張符合他的需求？



17. (B) 聚落反映著當地居民的生活方式，台灣早期的鄉村聚落可以依照住宅的分布，區分為集村與散村，關於台灣昔日的聚落特色，何者正確？(A)集村多分布於台灣北部 (B)宜蘭平原可為散村代表 (C)集村多因治安良好而形成 (D)鄉村聚落以二三級產業為主。

18. (D) 下表是花子針對在上公民課時記錄下家務勞動以及市場勞動的比較，請問下列哪一項的內容是錯誤的？

		家務勞動	市場勞動
(A)	是否有報酬	通常無酬	有酬
(B)	場所	通常在家中	工作場所
(C)	是否為勞動參與	是	是
(D)	對社會有沒有幫助	沒有	有

19. (C) 709 班的同學談論到日常生活中所看到的情境，請問下列何人所說的內容是公平的？

(A)大地：外籍的家事勞工的工資遠低於一般勞工 (B)飛雄：職業女性在懷孕後被迫離職 (C)翔平：衛生棉只有補貼生理女性 (D)清水：試用期的工資低於基本工資

20. (D) 魯夫時隔十年召開國中同學會，同學們互相討論目前的工作現狀，請問誰所說的內容沒有違反勞動基準法的規定？

魯夫：我之前去應徵服務生，老闆說只聘用女性，我就沒被錄取了。

娜美：因為 Covid-19 疫情影響，老闆說共體時艱，加班沒有加班費。

喬巴：我前一份工作被資遣，老闆說因為在試用期所以沒有資遣費。

索隆：我國中畢業去工作時，老闆說我是童工，依法不能上大夜班。

(A)魯夫 (B)娜美 (C)喬巴 (D)索隆

21. (C) 在疫情衝擊下，影響到許多公益團體活動進行，尤其是捐款收入大幅減少，例如：家扶基金會。若長期的缺乏持續性支持，公益團體面臨可能斷炊的壓力，受扶助對象也可能失去依靠。從前文中可以得知公益團體從事善行義舉的侷限為下列何者？

(A)公益團體的機動性較高 (B)公益團體沒有義務協助需要的民眾 (C)公益團體可能受能力影響而中斷協助 (D)公益團體能獲取的資料相較於政府少

請閱讀文章後回答下方問題：

近期有一則新聞「曾經沒錢買一個口罩，如今考取六所國立大學」在各大新聞皆有報導。這位同學從小與父親相依為命，後來父親失去勞動能力癱臥在床，家庭瞬間失去經濟來源，不只要照料父親，還要面對全家的開銷。大考前父親住進加護病房，疫情因素卻連見父親一面都很困難，他只能在每天下課後到病房門口詢問護理師近況，但病情卻每況愈下。學測後，父親也走了，他必須面對的是龐大的醫藥費與喪葬費用。這此狀況下，他考取了六所國立大學被大眾讚賞，因為可想而知的是，他付出了比其他人更多的努力，才取得這樣的成果。

參考資料：基隆高中 FB

22. (C) 若是一般的狀況中，考取六所國立大學並不會被各大媒體大肆報導，但這位同學的故事顯示了個人的先天條件、環境、財務狀況會影響個人能取得多少資源，也會影響個人的○○○○。若是毫無○○○○，也代表著人性尊嚴可能受到侵害。請問○○○○為下列何者？

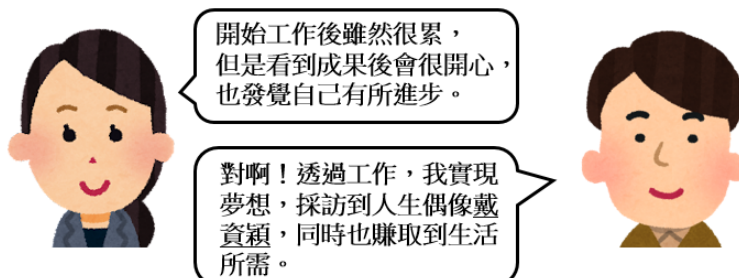
(A)公平正義 (B)工作能力 (C)選擇自由 (D)言論自由

23. (A) 在佛傑家中，爸爸洛伊德·佛傑是一名心理醫生，媽媽約兒是一名公務員，女兒安妮亞是一名國小生，平常家務事會由全家分工合作，洛伊德煮飯、約兒清掃家中、安妮亞負責餵寵物。根據上述情境，下列敘述何者正確？

(A)洛伊德與約兒都有進行市場勞動 (B)一家三口中從事勞動的人有兩位 (C)有獲取薪資的付出才屬於勞動參與 (D)安妮亞負責餵寵物，不算是勞動

24. (B) 根據右圖兩人的對話，請問下列敘述何者正確？

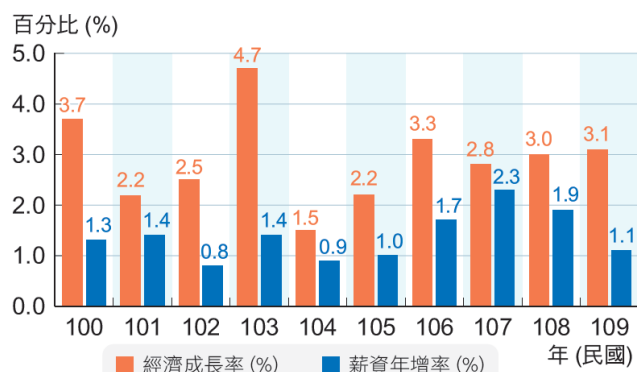
(A)勞動對於每個人來說都是負擔
(B)勞動對於每個人的重要性不同
(C)勞動參與只是為了獲取金錢
(D)學生不需要參與勞動行為



《背面尚有試題，請翻頁作答》

25. (A) 請問下列四張圖中何者最能解釋「相較於資方，勞方更需要受到保障」，並展現出勞動市場的勞資關係？

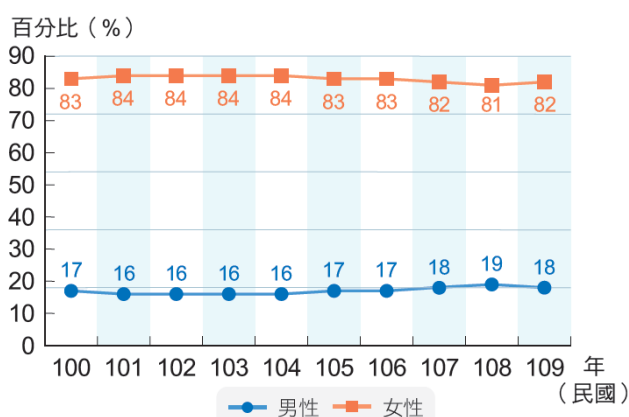
(A)我國經濟成長率與薪資年增率變化



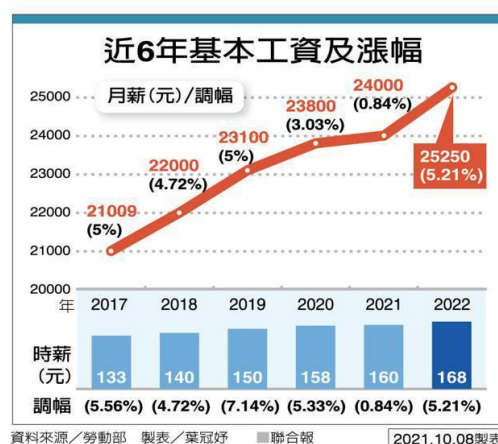
(B)臺灣男女薪資同酬日



(C)申請育嬰留職停薪人數比例



(D) 近 6 年基本工資及漲幅圖



26. (B) 過往的育嬰室通常設置在女廁中，使爸爸帶嬰兒出門時，在更換尿布時會遇到阻礙。近年，越來越多育嬰室設置在男女廁之間，請問這項改變最符合下列哪一項公平原則？

(A)利益分配 (B)需求滿足 (C)責任負擔 (D)貢獻肯定

27. (B) 全民健保長期守護著我們的健康，平價的保費與極高的就醫便利性，使民眾不必因為高額的醫藥費而放棄就醫，危害到自身健康。請問下列關於全民健保的敘述何者正確？

(A)全民健保的資金來源是政府經費 (B)是社會安全的一環，可以降低生活風險 (C)國民可以自由選擇是否加保全民健保 (D)未成年不必繳納健保費由政府支出

28. (A) 下圖是《世界人權宣言》第 25 條的內容。下列何者最能說明保障該項人權的意義？

(A)維持個人生存基本生活(B)確保人身不受非法侵犯(C)保障人民有權參與政治(D)落實人人法律地位平等

人人有權享受為維持他本人和家屬的健康和福利所需的生活水準，包括食物、衣著、住房、醫療和必要的社會服務；在遭到失業、疾病、殘廢、守寡、衰老或在其他不能控制的情況下喪失謀生能力時，有權享受保障。

29. (D) 111 年度政府預算已出爐，其中社會福利經費有 6003 億元，是政府支出中金額最高的項目，占支出的四分之一以上。上述的經費主要來自何處？(A)宗教團體的香油錢(B)企業人士的捐款(C)政府向人民貸款(D)人民繳納的稅金

30. (A) 台北市政府宣布針對 9 類對象提供的紓困措施，其中包含在 3 個月內工作受疫情影響而生活陷困的市民，須檢附失業、停工或無支薪等證明，可以每人申請 3000 元急難救助。請問上述屬於屬於社會福利保障的哪一面向？

(A)保障生存權利 (B)降低生活風險 (C)提升生活品質 (D)滿足多元需求

31. (D) 以前在男尊女卑的社會觀念下，分配資源時往往優先考量性別，而非能力高低或貢獻多寡，所以升學資源與繼承等權利大多保留給男性，女性的求學、就業權利往往被剝奪或犧牲。請問上述不公平處境的起因與何者最為類似？

(A)勞工遇到工廠爆炸而喪失工作能力，最後遭到老闆解雇
(B)妻子因丈夫猝逝而陷入經濟困境，只能接更多工作賺錢
(C)職業籃球員因車禍而被撞斷雙腳，從此不能再上場打球
(D)職場上主管大多由男性擔任，女性比較少有升遷的機會

(出自公習 L.5)

32. (C) 國家規劃出一個「社會安全網」的機制來補強社會目前缺漏的部分，加強社會安全來保護高風險家庭中的孩童，及早發現困境便能及早給予幫助，讓他們權利獲得應有的保障。政府的政策作為，主要期望以什麼方向來保障高風險家庭中的孩子的權利？(A)就業服務 (B)健康照護 (C)社會安全(D)社會保險(改自公習 L. 6)

請閱讀下文，並回答第 32 題：

《大量解僱勞工保護法》規定，同一事業單位同一廠場僱用勞工人數在 200 人以上未滿 500 人，若要在 60 天內解僱 1/4 勞工或單日解僱超過 50 人，就要在 60 天前將解僱計劃書通知主管機關及相關單位或人員，並公告揭示。

台灣蘋果日報日前宣布易主，並已經完成交接，6 月 10 號也已經向台北市勞動局提報大量解僱計畫書，擬在 8 月 9 號解僱 280 人。計畫書指出台灣蘋果日報勞資雙方預計於 15 日進行自主協商，依照法規，若 10 天後雙方無法達成共識，將由北市勞動局組成強制協商委員會，主持協商會議，若最後協商破局，就是回到勞動法令資遣程序。

新聞來源：聯合報 <https://udn.com/news/story/7238/6387151>

33. (B) 根據上文，請問下列敘述何者正確？
(A)蘋果日報即使不繳交解僱計劃書也不會違法
(B)《大量解僱勞工保護法》是保障勞方的權益
(C)若是勞資自主協商破局則以勞方的意見行事
(D)解僱勞工屬於公司事務，所以政府不會介入
34. (C) 民國 60 年我國宣布退出聯合國，主要原因是下列何者？
(A)美國與中華人民共和國建交，我國故退出表示抗議 (B)美國想中斷台灣關係法，故要求我國退出
(C)聯合國投票通過讓中華人民共和國取代我國位置 (D)我國經濟實力過於強大，故退出各大國際組織
35. (D) 民國 39 年韓戰爆發，請問韓戰對中華民國的影響，下列敘述何者錯誤？
(A)美國支持我國應保留聯合國的中國席次代表 (B)美國因此戰役開始對我國進行援助
(C)中共將要攻台的部隊轉而調往朝鮮半島 (D)因為此戰役我國跟美國簽訂台灣關係法
36. (D)「台、澎、金、馬是中國的一部分，不是另一個國家。世界上只有一個中國，沒有兩個中國，你們領導人與美國人訂立軍事協定，是片面的，我們不承認，應予廢除。兩岸應該舉行談判，達到和平統一的目標。」請問以上的文字內容，可能出現在下方哪個事件之後？
(A)韓戰爆發 (B)國共內戰 (C)古寧頭戰役 (D)中共與美國建交。
37. (A) 關於兩岸雙方的官方機構與民間組織，下列敘述何者正確？
(A)晨瑞：「我國的官方機構為陸委會。」 (B)靜賢：「對岸的民間機構為海基會。」 (C)欣漾：「國台辦是對岸與我國直接交流的對口。」 (D)韻慈：「海協會是我國的民間交流機構。」
38. (B) 在兩岸軍事對抗期間，雙方都有各自的政策口號，請問下列何者是當時我國的政策標語？
(A)三民主義統一中國 (B)光復大陸國土吹起反攻號角 (C)一國兩制統一中國 (D)一定要武力解放台灣

◎下文為歷史老師課堂請同學看的資料，請根據資料內容，回答下列第 6~7 題：

鹿港辜家為臺灣三大地主家族之一，原擁有水田、旱田 3,700 甲，辜家佃戶將近 1,000 名，都訂有租約。辜家每年可從這片耕地收到作物 7 萬擔（每擔 100 台斤）。如此大量的收成，辜家自用有餘，就在市場轉售，或銷往日本。

土地改革之後，地主只能保留 3 甲土地，政府向地主徵購土地所給付的 7 成價款是以實物債券發給，所餘 3 成的購地價款則以配發四大公營事業(水泥、農林、工礦、紙業)的股票方式為之，四公司股票分散在 7 萬 5,000 多位地主手中。

39. (C) 根據文中的內容，其中提到的土地改革可能是以下哪個政策？
(A)進口替代 (B)出口擴張 (C)耕者有其田 (D)公有地放領。
40. (B) 根據文中內容，在土地改革之後，台灣的社會與經濟可能出現何種轉變？
(A)像辜家的大地主越來越多 (B)促進經濟從一級產業轉型成以二級產業為主 (C)台灣的佃農數量大量增加
(D)使台灣資金大幅往外國流出。
41. (B) 1970 年代台灣遇到兩次能源危機，石油價格高昂，生產塑膠的原料變貴，台塑集團數度向政府要求興建輕油煉解廠，希望解決原料來源。請問關於 1970 年的能源危機，下列敘述何者正確？
(A)是因為東亞地區發生戰爭才導致能源危機 (B)中華民國政府推動十大建設來因應此危機
(C)此時代我國對外的貿易政策是進口替代 (D)能源危機促使我國加入各大國際組織。

42. (C) 西元 2003 年起，楊儒門先後放置貼有：「不要進口稻米，政府要照顧人民」的炸彈，媒體因此稱呼他「白米炸彈客」。在服刑期間，楊儒門曾表示，面對貿易自由化以及對外開放的政策趨勢，政府應該做更多的轉型準備，並對本土農業有所保護。楊儒門放置爆裂物的原因，是因為我國開放外國農產品進口並降低其關稅，使本土農業產生危機，而此一政策主要是要加入哪一個組織所導致？
(A)亞太經濟合作會議(APEC) (B)世界衛生組織(WHO)
(C)世界貿易組織(WTO) (D)美國在臺協會(AIT)
43. (D) 小波利用暑假到金門觀光，參觀了當地的菜刀觀光工廠，他看到老闆親自示範切割某次戰爭後所產生的廢棄炮彈的彈殼，並且將其從彈殼鍛造鋼刀。請問：敘述中提到的戰爭，是指下列何場戰爭？(A)古寧頭戰役(B)國共內戰(C)太平洋戰爭 (D)八二三炮戰。
44. (A) 在李登輝總統上任後，面對中華人民共和國的外交封鎖，採取維持現狀的務實外交政策，請問根據務實外交的敘述，下列同學的說法何者正確？
(A)航航：「尊重對岸並視兩岸雙方為分治的政治實體。」 (B)晨晨：「堅決強調三民主義統一中國」
(C)小動：「視對岸為匪區敵人，目標武力反攻大陸。」 (D)仁豪：「積極爭取聯合國常任理事的代表席次。」
45. (D) 台灣在民國 40 年代時積極發展輕工業，包括紡織業、食品加工業，而蘆筍罐頭的出產也連帶使市場上出現蘆筍汁這樣的飲料，請問此時我國政府的外交政策為何？
(A)產業國際化 (B)產業升級 (C)出口擴張 (D)進口替代
46. (C) 琦君的《桂花雨》一文中提到自己在台灣看到桂花樹，同時也想起在故鄉大陸與家人相處的點滴和在杭州的求學過程，請問此類型文章出現的時間與類別，以下分類何者正確？
(A)民國 60 年代，鄉土文學(B)民國 40 年代，反共文學(C)民國 40 年代，懷鄉文學
(D)民國 70 年代，懷鄉文學
47. (C) 民國 40 年代後期，由於中部橫貫公路的發展，政府開始推動農業上山的政策，請問關於農業上山政策的影響，何者正確？(A)使台灣農產品經濟價值下滑 (B)促使台灣經濟發展第一級產業為主 (C)濫伐山林地導致水土保持受到影 (D)促進台灣輕工業的產量提升。

◎請閱讀以下文章，試著回答下列問題：

四四南村位在人口密集的信義區，村內兩層樓舊建築與周邊的高樓大廈相比訴說了歷史的興衰，保留眷村與它的故事也同時給了附近居民一塊小小的綠色休憩空間。建於 1948 年的眷村，已有 68 年的歷史，當初國民黨退到台灣時，把四十四兵工廠的員工安置在這，並為他們及眷屬建立了台灣第一座眷村，稱之為四四眷村。

48. (A) 四四南村的出現跟以下何者戰爭有最直接的關係？
(A)國共內戰 (B)八二三炮戰 (C)第二次事件大戰 (D)古寧頭戰役

◎課堂上歷史老師拿了以下這份資料給學生閱讀，請閱讀完資料後回答下列問題：

兩岸在 1992 年 11 月進行了兩岸分治後首次的會談，會後達成了「九二共識」，內容是「海峽兩岸均堅持『一個中國』原則，其涵義可以口頭聲明方式各自表達」，這就是「一中各表」的「九二共識」；我方表示內容完全不涉及「兩個中國」、「一中一臺」、與「臺灣獨立」，因為這是中華民國憲法所不容許的；這樣的定位非常明確，也獲得臺灣多數民意的共識。

49. (B) 文中提到 1992 年兩岸分治後的首次會談，關於此會談的敘述何者正確？
(A)與會領袖分別為馬英九與習近平 (B)促成此會一的組織是海基會與海協會 (C)是一場官方主導的正式會議
(D)會後台灣對陸開放大三通。
50. (A) 學生閱讀完文章後，紛紛說出自己對九二共識的理解，下列學生敘述何者正確？ (A)芷瑜：「就是雙方都認為彼此同為一個中國，但是哪個中國可以各自表達。」 (B)亭語：「應該是代表中華民國政府是唯一合法的政府，對岸的政府是不合法的。」 (C)子權：「代表兩岸的合作關係已經達到可以邦交的地步了！」 (D)子嫻：「共識內雙方都承認中華民國在台灣，並且是獨立的國家。」