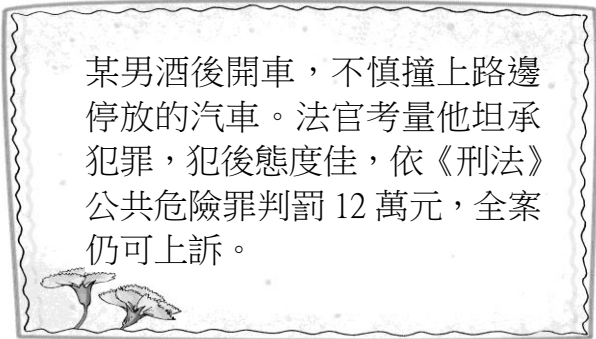
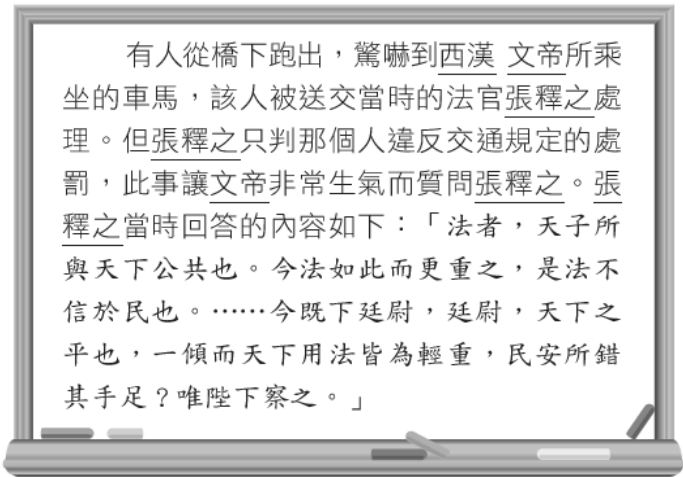


◎選擇題：(共50題，每題2分，共100分)

- (B) 現代法治社會，若人民不遵守法律的規定，就必須負擔法律責任。小夫用私人物品長期占用門口道路，被依竊佔罪移送法辦，其所須負擔的法律責任與下列何者相同？（習作）
(A)小櫻騎機車出門買東西沒有戴安全帽 (B)阿強為了購買新款手機，向同學勒索取財
(C)胖虎深夜在社區中庭唱歌，妨礙安寧 (D)花媽怕兒子學壞，不讓他受國民義務教育。
- (A) 觸犯《刑法》規定應透過司法審判程序，接受刑罰的制裁，下列相關敘述何者正確？（習作）
(A)刑罰雖能懲罰犯罪，但仍需其他措施以達教化及預防犯罪的功能
(B)罰鍰是一種依法剝奪犯罪者財產的處罰，是可以單獨科處的刑罰
(C)刑罰有主刑與從刑的分別，從刑必須附隨主刑才能科處，如沒收
(D)無期徒刑、有期徒刑、拘役、拘留等，都是屬於剝奪自由的刑罰。
- (C) 新聞報導：「某知名人士疑似涉及不法活動，經檢察官偵查後提起公訴，全案目前正由臺北地方法院審理中。」對於上述訴訟案件，法院最不可能出現下列何種判決結果？（107 教育會考）
(A)處以有期徒刑 (B)宣告褫奪公權 (C)處以高額罰鍰 (D)沒收犯罪所得。
- (B) 公民老師在課堂上進行分組討論，各組同學必須解讀下圖資料，判斷張釋之這段話的意義與何種概念相同。下列各組的回答何者正確？（習作）
(A)亂世必用重典 (B)罪刑法定原則 (C)天子犯法與庶民同罪 (D)以牙還牙、以眼還眼。



- (B) 以下是駿奎在電視上看到的一則新聞報導——根據內容判斷，法官針對違法者實施了何種處罰？
(A)吊銷駕照 (B)罰金 (C)拘役 (D)罰鍰。
- (D) 與遏止酒後駕駛有關的法律，最早訂於(甲)《道路交通管理處罰條例》處以罰鍰，西元 1999 年為了加重嚇阻效果，將酒駕行為增訂於(乙)《刑法》第 185 條之 3，得處以有期徒刑、拘役或罰金。西元 2013 年再次修法，明定酒駕為「駕駛吐氣所含酒精濃度達每公升 0.25 毫克」或「血液中酒精濃度達 0.05% 以上」，並加重刑責。有關酒駕的相關法律，下列敘述何者正確？ (A)(甲)規範犯罪行為；(乙)規範違法行為 (B)(甲)維護個人法益；(乙)維護國家法益 (C)(甲)規定何者構成犯罪；(乙)規定犯罪後的處罰 (D)(甲)維護交通秩序；(乙)避免透過私刑解決。
- (A) 老師在課堂上講解我國刑罰的相關規定，俊融將其整理成筆記——

項目	種類	處罰	性質
甲	主刑	死刑	生命刑
乙	主刑	有期徒刑	自由刑
丙	從刑	罰鍰	財產刑
丁	從刑	褫奪公權	自由刑

因他的觀念不夠清楚，因此其中有些錯誤的項目。老師請四位同學協助指出其中的問題，以下何人的說法錯誤？
(A)宇澤：甲錯誤，死刑屬於自由刑 (B)祈堃：乙正確，有期徒刑屬於自由刑
(C)思辰：丙錯誤，罰鍰不屬於刑罰 (D)心瑀：丁錯誤，褫奪公權不屬於自由刑。

《背面尚有試題，請翻頁作答》

8. (B) 某律師表示：我想推廣這項制度，是因為現有的司法程序往往難以看到加害者的生命歷程，我認為理解事件成因才能預防相關的憾事再次出現，尋求真相的過程中，提供當事人對話的機會，表達彼此的感受，讓加害人認知到其犯行的影響，而受到傷害的當事人在情感上也能得到療癒與修補。這位律師採取的方式可達到哪一項目的？
(A)協助加害者獲取刑罰上的減輕 (B)處理刑罰層面無法面對的傷痕
(C)避免不當判決影響對司法觀感 (D)分擔法院在審理案件上的負擔。
9. (D) 下列哪些對象為兒童權利公約所宣示保護的對象？ (甲) 3 歲的小柚子 (乙) 13 歲的國二生 (丙) 滿 18 歲的高三生 (丁) 15 歲國中肄業的小非 (戊) 7 歲還沒辦理入學的阿丁 (己) 未滿 18 歲已在就業的魯魯 (習作)
(A)甲乙丙丁戊 (B)甲丙丁戊己 (C)乙丙丁戊己 (D)甲乙丁戊己。
10. (C) 警方破獲多起未成年少女陪酒性交易的案件，案件主嫌在年輕人常用的交友軟體上釋出「輕鬆、好賺」等訊息，引誘中輟、逃家少女加入，再沒收她們的證件、手機，並雇用職業打手統一看管她們的生活起居，使她們無法與外界聯繫。涉案的未成年少女多達 20 人，年紀最輕者僅 14 歲。下列敘述何者正確？ (習作)
(A)本案處理適用性騷擾防治法 (B)案中未成年少女將被處以罰鍰
(C)民眾可撥打 113 通報此類案件 (D)案中主嫌將被安置於中途學校。
11. (C) 某立法委員於立院發表質詢內容如下圖。請問該立委所稱之法規，最有可能為下列何者？ (習作)
(A)兒童權利宣言 (B)少年事件處理法 (C)兒童權利公約施行法 (D)兒童及少年福利與權益保障法。



12. (D) 小曼今年在臺灣購買了一瓶進口的葡萄酒，酒瓶上的中文標籤如附圖。請問，標籤上警語的內容，符合我國何項法律的規定？ (100 基本學測二) (A)民法 (B)刑法 (C)社會秩序維護法 (D)兒童及少年福利與權益保障法。
13. (A) 俗話說：「不知者無罪」如以我國當前的《刑法》為基礎，應該怎麼看待這句話？
(A)無知不等於可以讓有罪的行為無罪化 (B)如果因不知法律而誤觸法網，應能免除責任
(C)因無知而為的犯罪，應由法定代理人代為受罰 (D)基於對兒少權利的保護，其犯罪不應受罰。
14. (D) 《兒童及少年福利與權益保障法》規定父母對兒少應負保護、照養之責任，且政府、團體或機構都應配合與協助。如果沒有依法保護兒少，以下何者並非相關人員可能受到的處分？
(A)失職的父母被要求接受親職教育 (B)販售不良刊物給兒少的業者遭公布姓名
(C)因疏忽致使兒少身心受損害的父母遭到罰鍰 (D)賣菸給兒少的雜貨店老闆被判處罰金。
15. (A) 今年 15 歲的冠綸找到下列 4 個打工機會，依據法律規定，冠綸應選擇哪項工作？
(A)平日下午 1 時至 5 時在藥妝店門口發傳單 (B)晚上 8 時至 12 時在加油站上大夜班
(C)星期日到賣場幫忙收推車 (D)每天早上 5 點到果菜市場搬運水果。
16. (C) 網路社群是很方便的訊息交流管道，但由於開放性高，使用上又具有可匿名的特性，許多人往往任意發表不負責任的言論。國中生如果在網路上以不雅字眼匿名留言羞辱他人，可能產生的結果為何？
(A)雖不應該，但只要匿名就無法追查，不會受到追究 (B)網路上的任何言論皆屬於言論自由範圍，受憲法保障
(C)可能觸犯刑法的公然侮辱罪，必須承擔刑事責任 (D)可能觸犯兒童權利公約，必須承擔行政責任。
17. (D) 「黃金十年」，也就是十年建設。是指國民政府在這段期間大力推動各項建設、終止各種不平等條約，與收回各種權利的一段時間。請問：「黃金十年」是在下列哪兩個事件之間？
(A)軍閥亂政～五四運動 (B)九一八事變～西安事變 (C)五四運動～北伐完成 (D)北伐完成～中日戰爭爆發。

《尚有試題，請接續下一張作答》

18. (C) 由傅虹霖所寫的《張學良與西安事變》自出版以來，一直被認為是研究張學良及西安事變最有份量的著作，也是張學良生前唯一肯定的一本傳記。此書詳細描述了張學良將軍的戎馬生涯，以及西安事變始末的內幕秘辛，當中對張學良心路歷程的轉變、周恩來在事變中的角色，以及後來張學良超過半世紀的軟禁，都有完整的交待。有關張學良的敘述，下列何者正確？

- (A)其父張作霖一開始依附日本，並答應日本二十一條要求
(B)他接任派系首領後，歸順國民政府，完成中國統一
(C)他以武力挾持蔣中正，要求「停止內戰，一致抗日」
(D)西安事變間接促成第一次國共合作

19. (B) 圖(一)為康宣國中走廊上展出的書法比賽成果，內容為「七七抗日蘆溝橋，兄弟後齊奮戰，大破東瀛出降幡，萬世榮名千秋讚。」請問：關於此書法內容的描述，何者符合史實？

- (甲)此內容描寫的是中日甲午戰爭 (乙)七七事變揭開了中國全面抗日戰爭的序幕
(丙)文中的蘆溝橋事變發生於民國 26 年 (丁)文中的「大破東瀛」是指對日抗戰勝利。
(A)甲乙丙 (B)乙丙丁 (C)甲丙丁 (D)甲乙丁



(圖一)



(圖二)

20. (D) 60 億元，中國史上最大面額鈔票，同時也是世界上面值最大的一張紙幣(圖二)。誕生於 1947 年以後，由當時的新疆省銀行發行。請問相關的社會背景敘述，何者正確？

- (A)政府鼓勵民眾消費，刺激景氣回升 (B)民間屯積紙鈔，導致鈔票短缺
(C)人民不敢消費，商品乏人問津 (D)通貨膨脹嚴重，物價飛漲

21. (A) 電影《南京·1937》敘述國軍撤離南京後，南京城內發生的悲劇。當時發生的悲劇為何？

- (A)日軍侵華，屠殺百姓 (B)國共內戰，居民遭殃 (C)軍閥亂政，民不聊生 (D)發生天災，民眾缺糧

22. (D) 民國 76 年金馬獎最佳劇情片稻草人(圖三)，描述日治時期宜蘭佃農的故事。佃農兩兄弟收成變差、耕牛被徵收，又被徵召為軍伕，一家人生活陷入絕境，還來不及怨嘆造化弄人，竟然「厚禮」從天而降，一枚未爆彈直入菜田中央，奪命符成了無限卡，對獎賞的期待掩蓋了一無所有的焦慮。請問影片中掉進田間的炸彈是由哪一個國家所投擲？ (A)日本 (B)中國 (C)英國 (D)美國。



(圖三)

23. (B) 民國 21 年，日本與某國訂約，承認該國是一個獨立國家。為永遠鞏固兩國關係，互相尊重其領土權，並規定該國的國防、治安均由日本負責；此外，日本有權向該國移民。該國是指何國？

- (A)汪精衛政權 (B)滿洲國 (C)臺灣民主國 (D)朝鮮共和國。

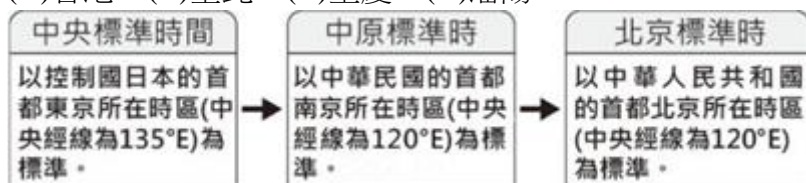
24. (C) ①蘆溝橋事變②珍珠港事變③南京大屠殺④開羅會議⑤遷都重慶⑥廣島原爆 上述是八年中日戰爭中幾個較重要的事件，請依照正確的歷史發展作順序排列？

- (A)①②③④⑤⑥ (B)①③④⑤②⑥ (C)①⑤③②④⑥ (D)②①③④⑤⑥

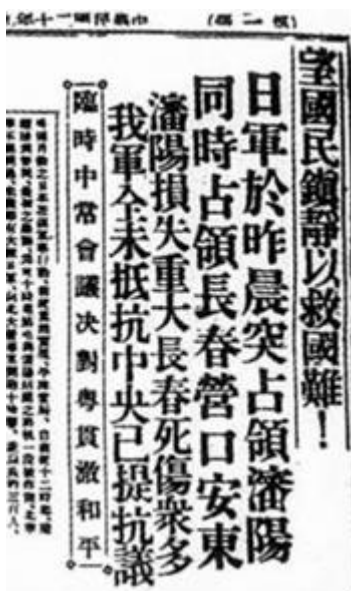
《背面尚有試題，請翻頁作答》

25. (D) 各地所採用的時區及標準時間名稱，有時會隨著當地的政治勢力改變而有所不同。下圖為二十世紀時，某座城市在十餘年內所屬時區及標準時間名稱的轉變。此城市最可能為下列何者？

(A)香港 (B)臺北 (C)重慶 (D)瀋陽。



26. (D) 圖(四)為民國 20 年(西元 1931 年)的報紙頭條，有關報上登載的事件，請依照你的歷史知識選出下列正確的解讀？ (A)此事件應該發生在山東地區 (B)此事件為長達八年的對日抗戰揭開序幕 (C)此事件引發了美日之間的正面衝突 (D)此事件發生時，正值民國初年以來較穩定進步的時期。



(圖四)



(圖五)

27. (B) 圖(五)為中國共產黨史上的重要事件，有關此事件發生的敘述，下列何者最正確？

(A)為了中國的統一而向北進軍，消滅軍閥 (B)為了躲避國民黨政府的圍剿，一路逃亡 (C)為了因應日本的進攻而遷都 (D)為了向政府抗議而四處遊行。

28. (B) 這份文告最有可能是何時由何人所提出的？

(A)辛亥革命時期武昌新軍的呼籲 (B)國民政府剿共時期中共的說法 (C)中共建國以後共黨的建國藍圖 (D)文化大革命時期紅衛兵的傳單

現在帝國主義與國民黨聯合起來，向我們進攻，我們唯一的出路不止是繼續罷工、罷課，並且還要擴大。我們得組織力量，武裝自己，把帝國主義的海陸空軍驅逐出中國，才有生路。

29. (B) 中國大陸某一時期的四川歌謠：「稻米趕黃豆，黃豆像地瓜；芝麻賽玉米，玉米有人大；花生像山芋，山芋超冬瓜。」、「土爐鐵水流成河，煉鐵工人齊高歌；人間實比天堂好，牛郎要當煉鐵哥。」、「放顆衛星獻大禮，昆明自造軋鋼機，直徑二百五十米，嚇得美帝叫稀奇。」請問歌謠內容反映的是那一時期的情形？ (A)中華人民共和國成立初期 (B)大躍進運動 (C)文化大革命 (D)改革開放。

30. (A) 中國電影「活著」描述靠演皮影戲維持生計的主角福貴，因為黨的「破四舊、立四新」政策，被迫停止公開演出。昔日好友春生被打成走資派，屢遭批鬥。不久以後，女兒鳳霞即將生產而送入醫院。由於老醫生已在「打倒學術權威」的口號下被迫離開，醫院裡的醫生全是毫無經驗的紅衛兵。雖然孩子平安降生，但鳳霞因產後血崩，他們只能眼睜睜看著她去世。請問這部電影的時空背景最可能是下列何者？

(A)文化大革命時期的中國 (B)軍閥混戰時期的華北 (C)滿洲國成立後的東北 (D)國共內戰下的台灣。

31. (B) 請問(圖六)、(圖七)這兩張圖片反映的是那一時期的情形？

(A)中華人民共和國成立初期 (B)大躍進運動 (C)文化大革命 (D)改革開放。



(圖六)

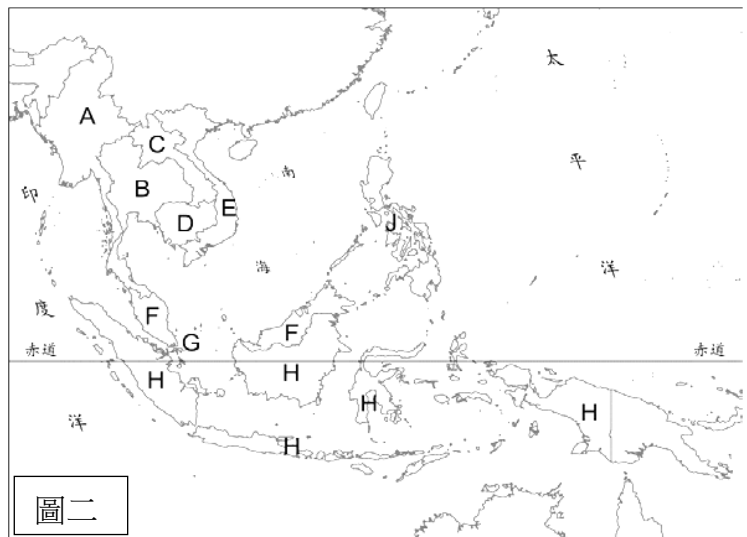
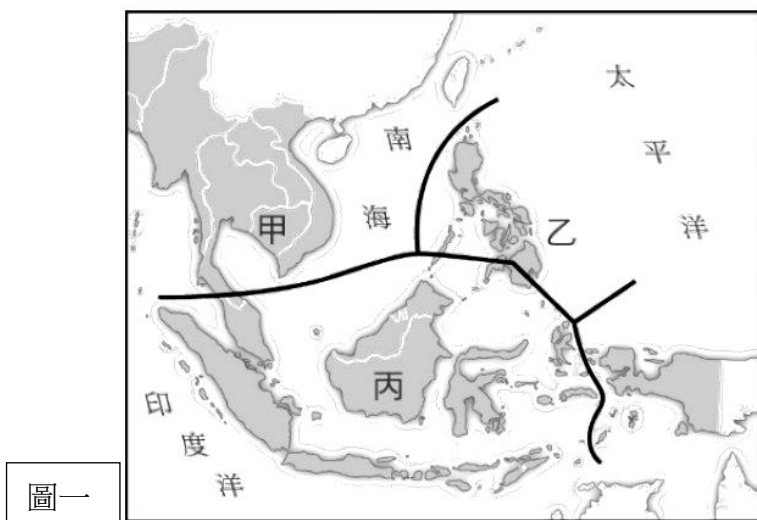


(圖七)

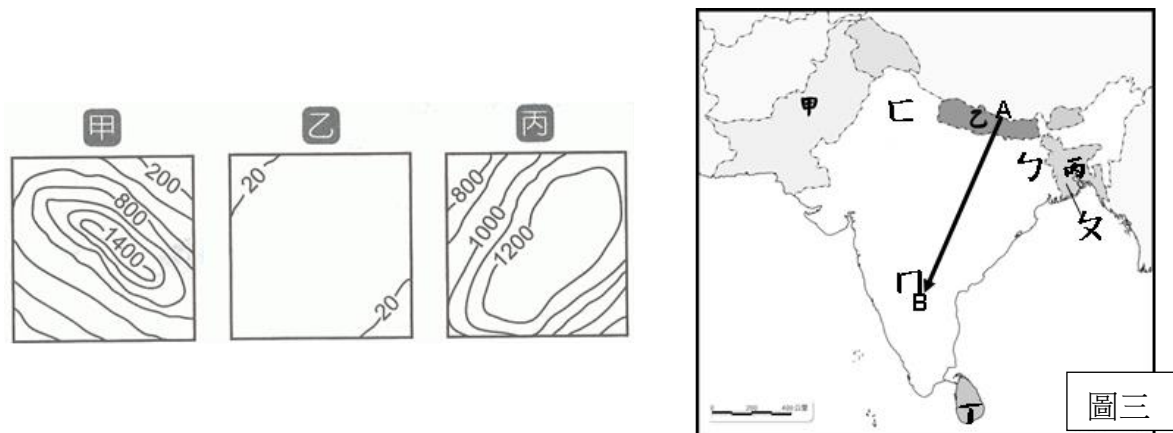
◎題組題

2021 年是中國共產黨成立 100 周年，屆時將隆重舉行慶祝成立 100 周年大會，同時舉辦大型主題展覽、文藝演出及研討會等活動；但對國民黨而言，晉身為百年老店，早已不是什麼新鮮事兒。國共兩黨之間的百年糾葛，交織成了大半部的中國近代歷史。

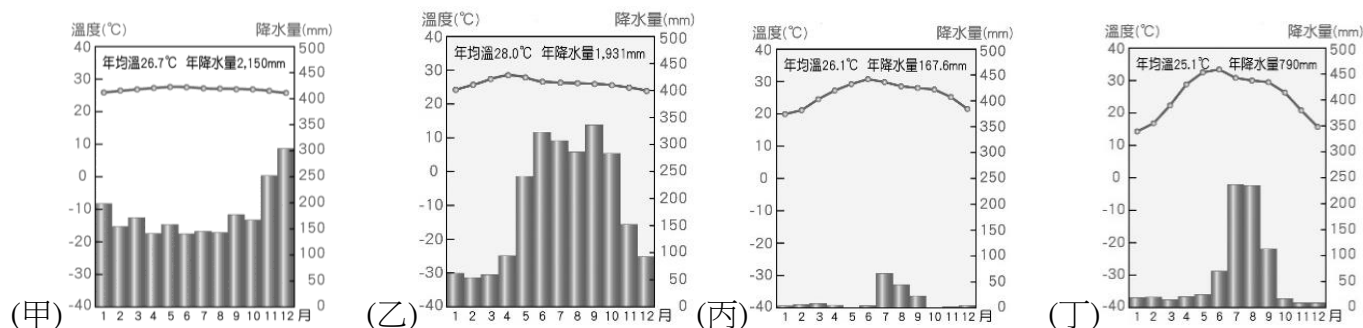
32. (D) 有關兩黨的合作和衝突，下列敘述哪個最符合歷史事實？
 (A)衝突的結果，國民黨都成為輸家 (B)第一次合作是為了對抗日本的侵略
 (C)第二次合作是為了獲得俄國的協助 (D)兩次合作的結束，都與蔣中正有關
33. (C) 有關兩黨的分合發展關係，依其順序排列，下列何者符合史實？
 (A)安內剿共→聯俄容共→清黨分共→聯共抗日 (B)聯共抗日→清黨分共→聯俄容共→安內剿共
 (C)聯俄容共→清黨分共→安內剿共→聯共抗日 (D)清黨分共→聯俄容共→安內剿共→聯共抗日
34. (B) 東南亞自古深受中國、印度及西亞文化的影響，近代又受西方國家殖民，宗教與生活呈現多元性。【圖一】為東南亞宗教分布圖。請問：【圖一】甲、乙、丙三地居民主要的宗教信仰為何？ (A)伊斯蘭教、天主教、佛教
 (B)佛教、天主教、伊斯蘭教 (C)天主教、伊斯蘭教、佛教 (D)伊斯蘭教、佛教、天主教。



35. (A) 五月天即將展開東南亞城市巡迴演唱，第一站：整潔乾淨的獅城，位居東南亞交通要道，國土不大，但麻雀雖小，五臟俱全，保證值回票價；第二站：位於三角洲上的仰光，佛塔林立，如此景觀訴說著佛教在此地的盛行；第三站：成為全球遭受颱風侵襲的最頻繁的國家；第四站：探訪胡志明故居，享受湄公河三角洲快艇之旅。請問：【圖二】他們前往的國家依順序為何？ (A)G→A→J→E (B)E→G→A→J (C)A→J→E→G (D)J→E→G→A。
36. (A) 東南亞的經濟發展深受昔日殖民背景的影響，現今仍以發展熱帶栽培業及礦業為主。請問：下列有關東南亞熱帶栽培業的敘述，何者有誤？ (A)栽種橡膠、咖啡、稻米等作物 (B)利用當地濕熱氣候及充足勞工的條件
 (C)商業性、大量生產、以出口為導向 (D)容易受到國際市場價格波動的影響。
37. (A) 地理老師上課提到：「位於南亞地區的印度半島，冬季氣候類型不明顯，相對於其他同緯度地區較為溫暖。」下課後幾位同學討論冬季不冷的原因，下列敘述何者正確？ (A)高大山脈阻擋北方寒冷氣團 (B)印度大平原地勢低窪較為溫暖 (C)受到海上季風吹拂，氣候較暖溼 (D)沿海地區有暖流經過，冬不寒冷。
38. (B) 東南亞的範圍包括中南半島及南洋群島，下列關於東南亞地區的敘述何者正確？
 (A)寮國、馬來西亞皆屬南洋群島國家 (B)印度尼西亞國土跨越南北半球
 (C)中南半島南部為山川夾峙的縱谷地形 (D)位處低緯，高地為人口集中的精華區
39. (A) 育佑從【圖三】A 點旅行至 B 點，先後所經過的地形種類依序為何者？ (A)甲→乙→丙 (B)乙→丙→甲 (C)丙→甲→乙 (D)甲→丙→乙



40. (C) 阿三調查南亞各地的作物分布，配合【圖三】的代號，根據自然環境特徵判斷哪個地區的主要農產加工廠類型有「誤」？(A)ㄅ地：米餅加工廠 (B)ㄆ地：黃麻紡織廠 (C)ㄇ地：茶葉加工廠 (D)ㄋ地：麵粉加工廠
41. (C) 孟加拉及印度阿薩姆邦均位於恆河附近，兩區的降雨量皆相當豐富，但經濟作物卻不同，孟加拉以黃麻為主，阿薩姆邦則以茶樹為主。請問造成兩區作物有如此差異的主要原因為何？(A)氣溫 (B)氣壓 (C)地形 (D)地質
42. (D) 近年來，東南亞的泰國、印尼、菲律賓、馬來西亞四國因具備良好的工業發展條件，使其經濟發展較為快速，為亞洲新興工業化國家，甚至卓越的經濟成就使其曾獲亞洲四小虎之稱。請問下列哪一項不屬於當地具備的良好工業發展條件？(A)農礦資源豐富 (B)廉價勞力充足 (C)國際海運要道 (D)技術精良先進
43. (D) 阿寶推論下列四座亞洲城市氣候圖所在的國家/地區，何者配對是錯誤的？(A)甲國可能是火山、地震頻繁的南群島 (B)乙國可能是寺廟建築群吳哥窟 (C)丙國可能是在印度河中游一帶 (D)丁國可能是石油大國的汶萊。



44. (B) 印度寶萊塢 2009 年上映的電影「三個傻瓜」獲得票房佳績，電影當中的一位男主角最後如願成為了工程師，這顯示在印度社會中，成為一位工程師能有較高的社會地位。而印度在發展高科技產業這方面有許多優勢，以下印度的特色當中，哪幾項與高科技產業的發展最有關係？甲、過去曾受英國統治，官方語言為英語，乙、教育首重數理，國人數理邏輯能力較強，丙、受種姓制度影響，社會階級制度較分明，丁、與美國近 12 小時的時差，提高研發效率 (A)甲乙丙 (B)甲乙丁 (C)甲丙丁 (D)乙丙丁
45. (C) 在美國的「印太戰略」與中國的「一帶一路」影響範圍區域中，下列哪一個地區不是兩國的競爭市場？ (A)印度 (B)非洲 (C)歐洲 (D)東南亞。
46. (B) 西元 2019 年 11 月 2 日某報導：「美國稱中國在南海主權議題的主張『具擴張性且非法』，擬在 4 日舉行的東亞峰會上呼籲某區域組織的成員國向中國提出抗議。」這組織應是下列何者？

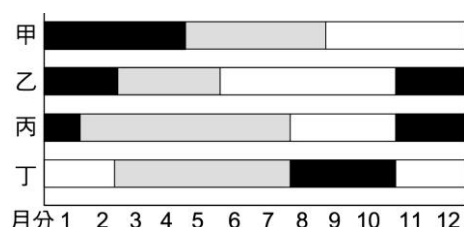


47. (A) 印度邦加羅爾的寶萊塢和其他幾個主要的影視基地，如克萊塢、塔萊塢等，構成了印度的龐大電影業，每年出產的電影數量和售出的電影票數量居全世界第一。請問：下列何者為印度電影年產量十分驚人的主因？ (A)內需市場龐大 (B)拍攝技巧高超 (C)題材選擇吸引外國民眾 (D)政府資助大部分資金。
48. (A) 臺灣寶成企業於東南亞國家設置製鞋生產線，只是台商投資東南亞的其中一個案例，東南亞各國若欲吸引更多外資進入，還需要結合哪些條件？ (甲)制定利於外資發展的政策 (乙)東南亞區域結盟，整合各國資源 (丙)各國產業活動趨於單一化發展 (丁)投入大量的資金發展採礦業 (A)甲乙 (B)甲丙 (C)乙丁 (D)丙丁。

【題組一】以下為緯緯旅行社的宣傳文宣，請根據以下內容回答第 18~19 題：

<p>【到世界瑜珈首都 Rishikesh 朝聖】</p> <p>里虛凱特 (Rishikesh)，坐落於喜馬拉雅山腳，由當地的聖河—恆河貫穿這個小鎮，是瑜珈人前往朝聖的重鎮。你過膩了一成不變的城市生活嗎？別猶豫了，請直接飛往當地，讓我們帶領你前往瑜珈聖城里虛凱特，體驗道地的瑜珈之旅！</p>	<p>出發日期：2019 年 11 月 26 日</p> <p>集合地點：桃園機場第一航廈</p> <p>注意事項：X X X X X X X X</p>
--	---

49. (D) 璇璇拿到這張文宣後，發現傳單中列出了四點注意事項，但根據她如神一般的威猛地理知識來判斷，其中一項並不符合當地的狀況。請問：注意事項的內容最不可能是以下何者？
- (A) 注意飲食衛生，切勿逕自飲用當地自來水 (B) 過馬路時禮讓牛隻，避免引起不必要的紛爭
- (C) 避免前往貧民窟，減少疾病傳染的可能性 (D) 當地的物價極高，出發前確定攜帶足夠金錢
50. (B) 請問若依照文宣的時間前往該地，當地的氣候狀況最可能為下列何者？(下圖每個顏色分別代表南亞三季)
- (A) 甲地—強烈豪雨 (B) 乙地—涼爽宜人 (C) 丙地—熱浪來襲 (D) 丁地—嚴重乾旱



《試題結束》