

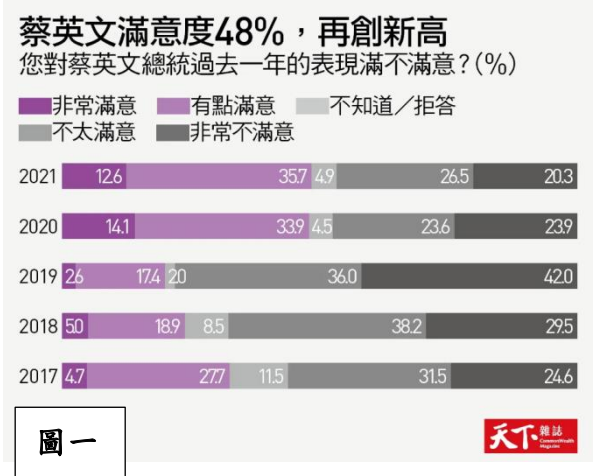
臺北市立建成國民中學 109 學年度第二學期第 2 次段考七年級社會科試題卷

7 年__班 座號：__ 姓名：__

科目代號：31，請於電腦答案卡上作答，本張試卷請繳回。
作答劃卡務必謹慎，預祝各位考試順利！

✎ 選擇題(共50題，每題2分，共計100分)

1. (D) (甲)翰林國中的童軍團團員 (乙)搭乘同班次捷運的乘客們 (丙)台灣之心愛護動物協會志工們 (丁)蘇打綠粉絲後援會的「蘇打粉」們 (戊)電影院裡的觀眾們 (己)桃園空服員職業工會的勞工們，請問以上哪些符合「團體」定義？
(A)甲乙丁戊 (B)甲丙丁戊 (C)乙丙戊己 (D)甲丙丁己。
2. (C) 在我國社會，人民有權可以自行成立或加入各種志願結社，此為哪一部法律所明文保障的何種權利？
(A)《人民團體法》，結社自由 (B)《政黨法》，集會自由
(C)《憲法》，結社自由 (D)《組織犯罪防制條例》，集會自由。
3. (A) 在社會中常看見勞資雙方權力地位不均的現象，因此由勞方組成的「ㄅ」，能團結成員彼此，提供對應手段向資方表達自己的訴求。下列關於「ㄅ」的敘述，何者有誤？
(A)「ㄅ」處指的是公會 (B)屬於志願結社的一種
(C)並非每間公司都設有此一組織 (D)罷工發起須經「ㄅ」內會員過半數同意。
4. (B) 公共意見又稱為民意、輿論。請思考關於公共意見的定義，判斷下列何者說法最適當？
(A)淇淇：公共意見涵蓋所有民眾的意見 (B)瑞瑞：同一議題常存在不同甚至對立的公共意見
(C)阿澤：民意幾乎不會改變政府的決策方向 (D)阿杰：經調查後的民意即不會再發生變動。
5. (D) 喜憨兒社會福利基金會由一群心智障礙者的家長所組成，開設烘焙屋，提供西點麵包等產品，更將無形的「愛心」融入在產品中，與一般商品差異化。為心智障礙者開創生命的尊嚴與生存的喜悅，從資源消耗者轉變為資源創造者，將賺取的收益用於心智障礙者的終生照顧、終生教育。關於上述，哪位同學看法較不適當？
(A)阿才：上述能看出志願結社的民間性 (B)小潔：上述展現出志願結社的非營利性
(C)大喬：若不當使用捐款易遭公眾譴責 (D)宸宸：比政府更彈性，可取代現行政策。
6. (B) 社團活動常成為國中生們參與團體的獨特經驗，化成青春歲月的難忘回憶。下列四位同學正在分享社團帶給自己的影響，下列何人達成的目的屬於滿足情感需求？
(A)佑佑：在疊杯社的共同訓練中使我更沉著冷靜、專注力更集中
(B)麥麥：我在國樂團透過音樂結交到許多知音，常互相分擔壓力憂愁
(C)諺諺：我不會忘記在籃球社那年奪下冠軍的榮耀與流過的汗水
(D)元元：我參加過許多社團，使我看見除了讀書外，自己的優勢與興趣何在。
7. (C) 現行《菸害防制法》針對菸品健康捐、菸品銷售對象年齡識別、吸菸場所限制等皆有所規範，而董氏基金會乃是背後修訂的一大推手。據此可直接看出志願結社對於公共生活有何影響？
(A)發揮個人影響力 (B)凝聚公共意見 (C)監督政府施政 (D)集結志同道合夥伴。
8. (C) 嘉豪發現一個社區能否齊心協力參與內部公共事務，「ㄅ」往往至關重要，亦即居民對於社區的共同歸屬感，隨之才能產生合作，願意攜手解決共同問題，達成提升居住品質的目標。請問「ㄅ」應為下列何者？
(A)社區環境 (B)社區型態 (C)社區意識 (D)社區活動。
9. (C) 防疫期間，濕紙巾常是許多民眾包包裡的攜帶品。消基會於日前召開記者會表示，接獲民眾質疑市售酒精濕紙巾未達消毒殺菌功能，隨機購買17件檢測後僅5件乙醇達70%有此功能，但目前卻無相關辦法可管，呼籲仿效新加坡訂定標準管理。上文有關消基會的敘述，何者有誤？
(A)又被稱作壓力團體 (B)意圖影響政府施政、立法的方向與進程
(C)選舉時會推派候選人參選 (D)可能只反映一部分民意，影響整體公共利益。
10. (B) 大選投票前夕，「ㄅ」機關加以呼籲，為了防止灌票或不實票數誤導視聽，各家電視台在呈現票數的同時應善盡查證之責。若接獲檢舉，將要求電視台進行說明與檢討。請問「ㄅ」機關應為何？
(A)即時新聞澄清平台 (B)行政院國家通訊傳播委員會 (C)台灣媒體觀察教育基金會 (D)行政院文化部。
11. (D) 請閱讀右「圖一」蔡政府施政滿意度圖表資料，試判斷2017~2021近五年來，此調查顯示出公共意見的何種特性？
(A)公開性 (B)影響性 (C)差異性 (D)不穩定性。



請翻面繼續作答~

12. (A) 以下是同學們在複習完公共意見特性後自行舉出的例子，請問誰的理解可能有需要加以修正？
(A) 芹芹：公開性—民眾至投票所投票可公開亮出自己的選票，以彰顯自己的意志
(B) 小芳：差異性—關於同性婚姻規範，有人認為應修改民法、有人支持制定專法
(C) 小允：不穩定性—隨著社會變遷，民眾對於婚姻的看法漸漸發生轉變
(D) 愷愷：影響性—行政院根據釋憲案及公投結果，提出保障同性婚姻之法律草案，命名《司法院釋字第七四八號解釋施行法》。
13. (D) 媒體為獨立於行政、立法、司法權之外的社會公器，是防止政府濫權的重要社會監督力量，於民主社會中它扮演著□角色，□應填入下列何者？
(A) 第一部門 (B) 第二部門 (C) 第三部門 (D) 第四權。
14. (C) 「由齊柏林執導的《看見台灣》奪下第50屆金馬獎最佳紀錄片。此作品不僅讓我們看見台灣的美景，更皆揭露這片土地上財團不當開採的真相，喚醒國人對這座寶島的守護之心，呼籲政府應盡快增修相關規範。」若要為此段短文命題，下列何者最為適切？
(A) 媒體是民眾耳目的延伸、消息的來源 (B) 媒體應兼顧新聞自由與專業倫理
(C) 媒體對公共議題的形成具有影響力 (D) 媒體報導與真實的差異。
15. (B) 下列有關「媒體近用權」的說法，下列何人的說法有誤？
(A) 小恩：民眾不只是內容的接收者，更可以對內容提出修正或主動生產節目
(B) 萱萱：是指開放民眾入主媒體，決定經營方針與生產何種內容的權利
(C) 大鈞：太魯閣號先行脫困的乘客遭媒體誤認為肇事工人，他可善用接近權要求更正報導
(D) 阿宏：民眾須養成獨立思考、多方求證的能力，而非全盤接收媒體傳播的資訊。
16. (B) 以下四位同學分享其如何面對生活中所見的媒體訊息，下列何者的態度較不具備媒體識讀的素養？
(A) 小齊：收看新聞時應注意其報導是以事實還是立場作為出發點
(B) 阿赫：收到災害資訊我會立刻轉傳，把握時間、避免危害擴大
(C) 小穎：看到與認知不符的報導，我會多方吸收資訊，不急著留言批判
(D) 阿昌：我會設法了解不同電視台的背後出資者，意識到各家電視台可能存有不同立場。
17. (B) 霧峰林家是臺灣史上有名的大家族，也在歷史發展上具有舉足輕重的地位。其中林獻堂更是日治時期臺灣社會運動的領導者，但下列哪個組織與他無關？
(A) 臺灣文化協會 (B) 臺灣民主國 (C) 臺灣民眾黨 (D) 臺灣議會設置請願運動
18. (C) 日治時期，總督府將鴉片、纏足、辮髮視為三陋習，也做出不同政策因應，下列關於政策和影響何者正確？
(A) 對鴉片採取積極態度，嚴格取締吸食鴉片 (B) 向社會推廣放足觀念，引起知識分子反對
(C) 向社會推廣放足觀念，得到知識分子贊同 (D) 辮髮是日本人的象徵，強制大眾剃髮留辮
19. (B) 耘耘是個生活在1936年的臺北帝國大學學生，請問下列哪項可能是他會遇到的生活樣貌？
(A) 參與黨外活動，舉辦秘密讀書會 (B) 跟同學一起購買《臺灣民報》閱讀
(C) 在街上看到總督候選人掃街拜票 (D) 臺灣總督府要求每個人都必須辮髮
20. (D) 日治時期臺灣的人口數從初期的三百多萬增加到後期的五百多萬，平均壽命也延到了四十歲左右，請問這與下列哪項最有關聯？
(A) 成立職業學校，培養農業技術人才 (B) 規劃公園、博物館等休閒設施
(C) 推動星期制養成規律的生活習慣 (D) 建設自來水、地下水等公共設施
21. (C) 「日本是立憲國家，臺灣也應享有立憲政治之待遇。而臺灣情況特殊，應有特別立法的需求，所以需要設立議會來為臺灣設定專屬的法律機制。」從上述判斷，最可能是哪個組織的主張？
(A) 臺灣文化協會 (B) 臺灣農民組合 (C) 臺灣議會設置請願運動 (D) 臺灣民眾黨
22. (D) 「1947年3月11日，阮朝日(臺灣新生報總經理)因病在家休養，被不明便衣人士強押上車離去；黃朝生(醫師)於臺北市自宅被捕後失蹤。12日，李仁貴(處理委員會委員)上午出門，遭不明人士挾持後失蹤；林茂生(臺大文學院教授)於自宅遭不明人士挾持上車後失蹤；宋斐如(人民導報社長)遭六名便衣人員挾持上車後失蹤。」請從以上的名單中推測，當時這些人的失蹤背景應是何者最為合理？
(A) 中日戰爭期間，政府強徵臺灣人從軍 (B) 二林蔗農事件過後，政府大肆搜捕犯人
(C) 民眾黨違反戒嚴令，遭政府大肆抓捕 (D) 行政長官公署清鄉，掃蕩反政府分子
23. (A) 「這起事件中，被逮捕的名單都是當時有名的反對勢力，在國際壓力下政府公開審判犯人，許多律師團體爭相聲援，使得原本因事件受挫的黨外活動重新崛起，這群人更在日後組政黨繼續活動。」關於上文，何者正確？
(A) 這起事件是指美麗島事件 (B) 事發原因是雜誌社遊行發生警民衝突
(C) 事後人們組成中國民主黨 (D) 當時國際上大家鼓吹著民族自決風潮

24. (B) 閱讀1937年在臺灣所發行的《臺灣日日新報》上面不會看見哪個新聞標題？
(A)菊元商行周年慶即將開賣 (B)二二八事件處理委員會發布新聞稿
(C)政府呼籲積極注射預防針 (D)上海陷落！日本皇軍戰況十分順利
25. (A) 1945年後，臺灣人開始向主管政府建議應重用本省人才，應配合臺灣人開放用日文考試，也請求處理日漸高漲的物價，請問他們應該是向哪個政府單位請願？
(A)行政長官公署 (B)臺灣總督府 (C)臺灣省政府 (D)臺北市政府
26. (D) 某條法令內容如下：「每日上午一時至五時為宵禁時間；全省各地商店及攤販不得有抬高物價，擾亂市場之情事；嚴禁聚眾集會罷工罷課及遊行請願等行動；嚴禁以文字標語或其他方式散布謠言；嚴禁人民攜帶槍彈武器或危險物品；無論居家外出，皆需隨身攜帶身分證，以備檢查，否則一律拘捕；……。」請問這是哪一項法令？
(A)動員戡亂時期臨時條款 (B)中華民國憲法 (C)法律第六十三號 (D)戒嚴令
27. (C) 「夜裡，聚集在廣場前抗議的學生越來越多，雖然解嚴了，大家仍擔心政府是否會暴力鎮壓。美術專長的學生合力做出一大束野百合，象徵學生自主、崇高的理想。」請問這是在描述臺灣的哪個事件？
(A)二二八事件 (B)四月學運 (C)三月學運 (D)美麗島事件
28. (C) 因為創辦《自由中國》雜誌及組織中國民主黨的關係，他被政府判刑，其他人為了避免被波及，甚至連他的家人生病都沒人敢幫忙醫治。「他」是指誰？
(A)呂秀蓮 (B)施明德 (C)雷震 (D)陳儀
29. (A) 1950年代，政府對待山區原住民的政策與現在截然不同，請問哪像符合當時會有的情況？
(A)稱他們為山胞要求取漢名 (B)推行國語運動將原住民語列為國語
(C)將他們定名為原住民族 (D)設立原住民族基本法保障族人權益

改編自國產遊戲的電影《返校》受到大眾的熱烈支持。電影的內容描述白色恐怖時期一群師生對抗政府權威的故事。其中最著名的場景之一，是老師與學生組織秘密讀書會，卻被警察帶捕而成為悲劇；呈現了當時社會上政府對於禁歌、禁書、限制人民自由的樣貌。

30. (D) 白色恐怖時期是指從38年戒嚴到解除的這段時間，請問解嚴是民國幾年？
(A)68 (B)75 (C)81 (D)76
31. (B) 這段期間政府之所採取高壓的方式統治人民，是因為哪個背景導致？
(A)為了南進政策做準備 (B)為了對抗大陸地區的共產黨
(C)為了對抗日本的攻擊 (D)為了太平洋戰爭所做的政策

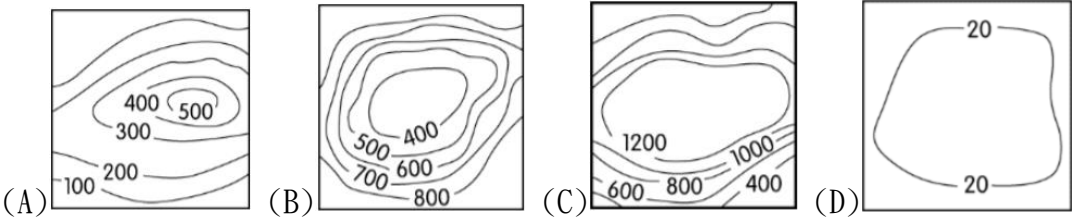
閱讀下列文章，回答 32~33 題：

蔡阿信出生於日治時期的臺北艋舺，五歲時隨母親改嫁，家裡將她送到私塾上學，因聰明過人被送去政府的初等教育機構學習。在當時全校只有阿信一個女生而已。畢業後進入新成立的淡水女學校，接著被老師推薦到內地進修醫學。

回臺後，她成為全臺灣第一位受教育的女醫師，1926 年和丈夫在臺中開了清信醫院，也開學校培育許多人才，教出了 300 多位助產士，據統計臺中人大部分是由阿信或她的學生所接生的，所以又被稱為「臺中之母」。

32. (D) 根據第一行劃線處，請問蔡阿信當時應該是去哪間學校讀書？
(A)高雄小學校 (B)角板山番童教育所 (C)打狗公學校 (D)艋舺公學校
33. (B) 日治時期政府有意的栽培許多醫師及護理師等職業，推測最不可能是哪個原因？
(A)傳染病盛行 (B)讀書只能選醫學校 (C)衛生觀念不普及 (D)醫院缺乏人才
34. (B) (甲)林鳳營鮮奶酪農 (乙)捷安特自行車製造商 (丙)台灣銀行行員 (丁)遠洋漁業漁民 (戊)foodpanda外送員 (己)鋼鐵業 (庚)Gogoro電動機車行銷專員 (辛)曼都髮型設計師，請問以上屬於第三級產業的有幾項？
(A) 3 (B) 4 (C) 5 (D) 6。
35. (C) 臺灣於2002年加入WTO，強化與國際間的自由貿易，但也帶來了一些衝擊與轉變。請問：下列哪些是加入WTO之後，農業面臨的挑戰與轉變？
(甲)提高進出口關稅 (乙)臺灣開放農產品市場 (丙)轉型休閒農業、有機農業 (丁)加入WTO導致農村人口外流與老化 (戊)本土農業與國外低價農產品之競爭
(A)甲乙丙 (B)甲丙丁 (C)乙丙戊 (D)丙丁戊。

36. (A) 臺灣開放中國遊客來臺觀光後，茶葉成為遊客最搶手的伴手禮，是我國相當重要的經濟作物。若遊客想去茶園參觀，應該到下列哪一地形區最為適合？



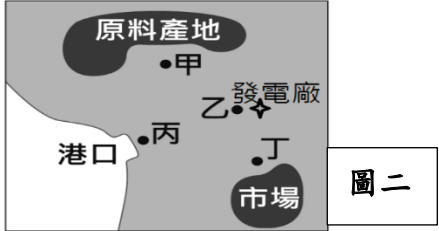
37. (B) 2019年彰化縣政府舉辦馬拉松嘉年華活動，其中，社頭織足盃超半程馬拉松特色為跑進臺灣「襪子的故鄉」。民國50年代配合政府「客廳即工廠」政策，讓織襪成為當地特色產業。請問：當時實施這項經濟政策時，臺灣工業發展特色為何？
(A)產業轉向資金密集的重工業
(B)積極發展勞力密集的輕工業
(C)進口替代，本地生產替代進口產品
(D)產業升級，設立新竹科學工業園區。

38. (D) 經濟部的國貿局舉辦臺灣貿易特展，展示臺灣工業發展的先後歷程，請將順序正確排列？
(A)甲→乙→丙→丁 (B)甲→丁→丙→乙 (C)丁→丙→甲→乙 (D)丁→甲→丙→乙。

(甲)製鞋工業	(乙)半導體產業	(丙)鋼鐵產業	(丁)農產品加工業

39. (B) 政府推動「大彰化離岸風電計畫」，即在彰化沿海一帶設立離岸風力發電機，2018年2月通過環評大會審查，風場位置在彰化外海35-60公里處，此風場的位置最有可能影響台灣的哪一項漁業活動？
(A)沿岸漁業 (B)近海漁業 (C)遠洋漁業 (D)養殖漁業。

40. (D) 附圖二為叮噹國的簡圖，附表一是四種不同產品的特色說明。考慮表中產品的特性，請依序選出最適合這四種產品的工廠設置的地點？ (A)甲丁丁乙 (B)丁丙甲丁 (C)甲丙丁乙 (D)丁甲丁乙。



產品	特性
一	1 立方公尺原料可製成 100 立方公尺的產品
二	100 公斤原料可製成 10 公斤產品
三	原料加工後產品易腐敗
四	原料加工成產品過程中需耗大量電力

表一

41. (D) 下列為四個國家的進、出口資料。
由表中資料研判，入超額最大的國家是？
(A)紅紅國 (B)黃黃國 (C)綠綠國 (D)藍藍國。

	紅紅國	黃黃國	綠綠國	藍藍國
進口額	100	200	300	400
出口額	400	300	200	100

(億美元)

42. (C) 臺灣被稱為蘭花王國，而彰化縣田尾鄉早期以稻米生產為主，現在則是臺灣重要的花卉生產專區。請問田尾鄉由生產稻米轉為花卉與下列哪一項農業現況無關？
(A)農產品商品化 (B)市場需求改變 (C)勞動力老化 (D)增加經濟作物產量。

43. (C) 新聞報導：今年首批野生烏魚大豐收！數量多達1萬3千多條，而且每條野生烏魚，都又肥又大，至少5斤重，讓彰化漁民大賺超過500萬，漁民現場殺魚取卵，烏魚子的品質，更是一等一，漁民說，因為天氣變冷，烏魚成群洄游到中部海域，所以才能捕獲那麼多。關於烏魚移動及其相關洋流的說明，如圖三所示，請問下列何者正確？



圖三

(A)烏魚是順著「甲寒流—黑潮」北上的 (B)烏魚是順著「甲暖流—黑潮」北上的
(C)烏魚是順著「乙寒流—中國沿岸流」南下的 (D)烏魚是順著「乙暖流—中國沿岸流」南下的

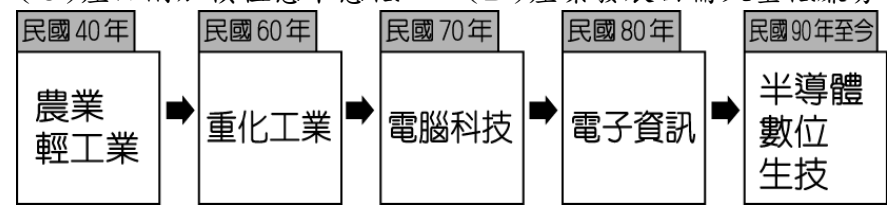
44. (A) 附表二是某島國主要工業原料和產品的進出口狀況。
表中呈現的現象，最適合用來說明該國工業區的哪一分布特徵？
(A)位於海運便利的沿岸地區 (B)位於資金充沛的都會地區
(C)位於人口高度集中的地區 (D)位於地勢平坦的平原地區。

工業原料	進口量占需求量的比率 (%)	工業產品	出口量占生產量的比率 (%)
石油	99.7	汽車	51
煤炭	95	電子電器	59
鐵礦	100	一般機械	54
棉花	100	化學製品	47

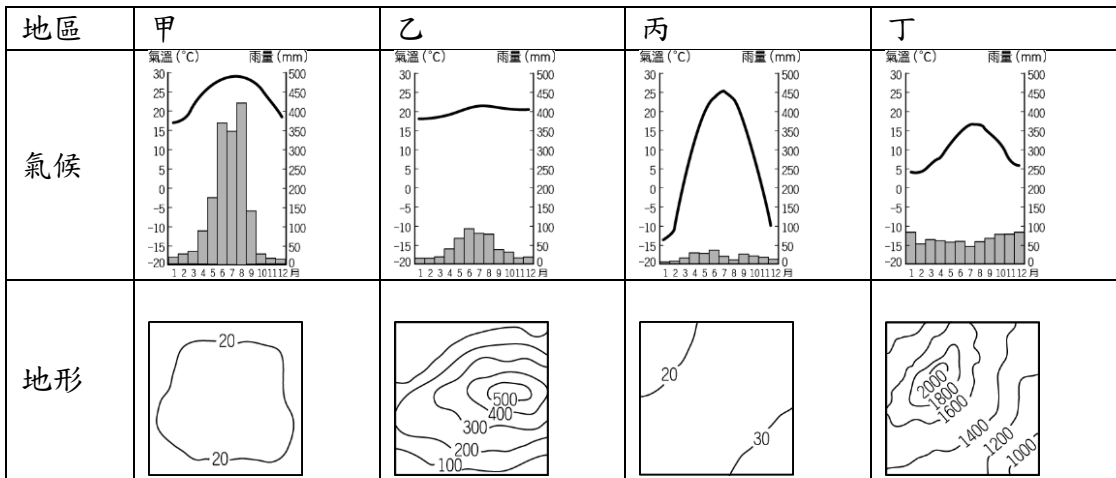
表二

請接續第三張，完成最後一哩路！Fighting！

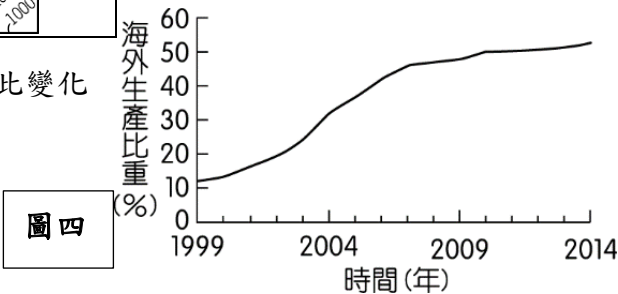
45. (D) 臺灣各階段的主要產業類別如附圖所示，根據圖中資料判斷，下列有關產業發展的敘述何者最為正確？
 (A) 所需勞動人口數逐漸增加 (B) 國家經濟發展程度下降
 (C) 產品附加價值愈來愈低 (D) 產業發展由需大量低廉勞工轉向資本密集度高。



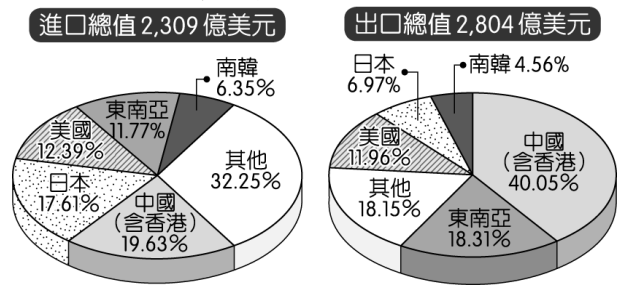
46. (A) 食品加工業多分布於農業原料生產地，若王老闆要開設製糖工廠，其設廠地點的自然環境以下列何者最為適合？ (A) 甲 (B) 乙 (C) 丙 (D) 丁。



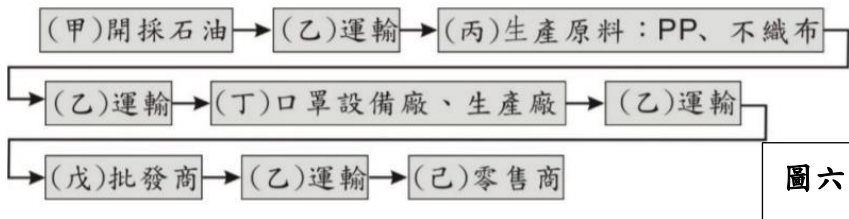
47. (A) 右圖為臺灣 1999 至 2014 年外銷訂單在海外生產的比重變化圖，此變化與下列何者最有關係？
 (A) 國內生產成本逐漸提高 (B) 國內勞動人口逐漸增加
 (C) 臺灣貿易入超逐漸擴大 (D) 國際貿易障礙逐漸提升。



48. (C) 附圖為民國 105 年臺灣主要的經貿夥伴及其進、出口貿易值比例圖。由圖中可看出臺灣對何地貿易的入超情形最嚴重？ (A) 美國 (B) 中國 (C) 日本 (D) 東南亞。



圖五



圖六

閱讀下文，回答第49~50題：
 受新冠狀病毒（2019-nCoV）擴散，受影響地區超過150個國家，最早發現疫情傳染的中國湖北省武漢市於2020年1月23日宣布採取疫區封鎖隔離措施，接著陸續蔓延至日本、南韓、義大利、美國等地，至今疫情仍持續蔓延。同時，也衝擊各個疫情國家的經濟發展。

49. (B) 在病毒肆虐下，世界各地紛紛出現搶購口罩的現象，導致嚴重供不應求。上圖為口罩產銷的流程，其中哪一個流程屬於第二級產業？ (A) 甲乙 (B) 丙丁 (C) 戊己 (D) 皆屬於二級產業。
50. (C) 受疫情波及，各產業無不卯足全力減緩衝擊與影響幅度。對產業而言或許也是個轉機，政府可以協助業者，發展轉型策略與應變措施，以因應下一個危機的發生。請問：下列哪一項服務科技業應用，對於疫情的控制較無幫助？ (A) 加速推廣行動支付使用，減少鈔票或零錢的接觸機會 (B) 人工智慧 (AI) 與機器人應用，如消毒、送貨、送餐 (C) 使用『Skyeye雲端智慧農業管家』系統，可隨時掌握氣候、土壤變化 (D) 擴大宅經濟範圍，在宅工作、會議、娛樂、學習、餐飲。

恭喜你/妳完成試題，記得從頭檢查，並確認答案卡皆確實劃記！GOOD LUCK~

